

SERTİFİKA TÜRÜ

B

221020111100

5. GRUP

KİTAPÇIK TÜRÜ

K

T.C.
MİLLÎ EĞİTİM BAKANLIĞI
YENİLİK VE EĞİTİM TEKNOLOJİLERİ
GENEL MÜDÜRLÜĞÜ
Sınav Hizmetleri Daire Başkanlığı

MOTORLU TAŞIT SÜRÜCÜ ADAYLARI SINAVI SORU KİTAPÇIĞI

Adayın Adı ve Soyadı :
Aday Numarası (T.C. Kimlik No) :

DERSLER	SORU SAYISI	TOPLAM SORU	TOPLAM SÜRE (DAKİKA)
İLK YARDIM BİLGİSİ	30	120	150
TRAFİK VE ÇEVRE BİLGİSİ	50		
MOTOR VE ARAÇ TEKNİĞİ BİLGİSİ	40		

ADAYLARIN DİKKATİNE!

1. Soru kitapçığının ön ve arka yüzündeki açıklamaları okuyunuz ve bu açıklamalara uyunuz.
2. Sınav saat **11.00**'de başlayıp **13.30**'da biter. Sınav başladıktan sonra ilk **60** dakika dolmadan dışarı çıkmayınız.
3. Sınav sırasında sözlük, hesap cetveli veya makinesi, çağrı cihazı, cep telefonu, telsiz, radyo gibi elektronik iletişim araçlarını yanınızda bulundurmuyunuz. Bu araçları kullanmanız ve kopya çekmeye teşebbüs etmeniz hâlinde sınavınız geçersiz sayılacaktır.
4. **Başvuru şartlarını taşımadığınız hâlde sınava girmeniz, kopya çekmeniz, cevap kâğıdınızdaki fotoğraf ve bilgiler ile geçerli kimlik belgenizdeki (nüfus cüzdanı, pasaport veya sürücü belgenizdeki) bilgilerde uyumsuzluk olması, başka adayın sınav evrakını kullanmanız, geçerli kimlik belgenizi ve sınav giriş belgenizi ibraz edemediğiniz durumlarda sınavınız geçersiz sayılacaktır.**
5. Elektronik iletişim araçlarıyla kopya çekmeniz, yerinize başka birinin sınava girdiğinin belirlenmesi veya organize olarak kopya çekme eylemine karıştığınızın tespit edilmesi durumunda bir yıl süreyle sınava alınmayacaksınız.

CEVAP KÂĞIDI VE SORU KİTAPÇIĞI İLE İLGİLİ AÇIKLAMALAR

1. Kendi adınıza düzenlenmiş cevap kâğıdı ve sertifika türünüze uygun soru kitapçığını almamış iseniz bunu salon görevlilerine bildirmekle yükümlüsünüz. Bu durumu salon görevlilerine bildirmediğiniz ya da geç bildirdiğinizde tüm sorumluluk size ait olacaktır.
2. Cevap kâğıdınızdaki bilgilerin doğruluğunu kontrol ediniz ve cevap kâğıdınızı imzalayınız.
3. Cevap kâğıdı üzerine yazacağınız yazı ve yapacağınız işaretlemelerde kurşun kalemde başka kalem kullanmayınız.
4. Soru kitapçıklarını kontrol ederek, baskı hatası olan kitapçığın değiştirilmesi için salon görevlilerine başvurunuz.
5. Soru kitapçığının ön yüzündeki ilgili yerlere ad, soyad ve T.C. kimlik numaranızı yazınız.
6. Her sorunun dört seçeneği vardır. Dört seçenekten sadece biri doğrudur. Doğru cevap olarak kabul ettiğiniz seçeneği, cevap kâğıdının ilgili sütununa aynı soru numarasını dikkate alarak cevap kâğıdındaki örnekte olduğu gibi yuvarlağın dışına taşımadan kodlayınız. **Soru kitapçığı üzerinde yapılan cevaplandırmalar dikkate alınmayacaktır.**
7. Değiştirmek istediğiniz bir cevabı, yumuşak silgiyle cevap kâğıdını örselemeden temizce siliniz ve yeni cevabınızı kodlamayı unutmayınız.
8. Yanlış cevaplarınız dikkate alınmadan sadece doğru cevaplarınız üzerinden puanlama yapılacaktır.
9. Her ders kendi içerisinde **100** puan üzerinden değerlendirilecektir. Başarılı sayılabilmemiz için her dersten ayrı ayrı en az **70** puan almanız gerekir.
10. Soruları ve sorulara verdiğiniz cevapları, yanınızda götürmek amacıyla kaydetmeyiniz; hiçbir şekilde dışarı çıkarmayınız.
11. **Sınav bitiminde, sınav giriş belgesi, soru kitapçığı ve cevap kâğıdını salon görevlilerine teslim ediniz.**

Arka kapaktaki açıklamalara geçiniz.

1. Aşağıdakilerden hangisi sürücüye ait trafik kazası sebebidir?

- A) Yorgun ve uykusuz olarak araç kullanması
- B) Aracını kullandığı yolun bozuk olması
- C) Uyarı işaretlerinin yetersiz olması
- D) Aracının arıza yapması

2. I- Soğukkanlılığını korumak
II- Her zaman tedbirli olmak
III- Emin olmadığı uygulamalardan kaçınmak

Yukarıdakilerden hangileri ilk yardımı yapacak kişide bulunmalıdır?

- A) Yalnız I
- B) I - II
- C) II - III
- D) I - II - III

3. Aşağıdakilerden hangisi göğüs boşluğunda bulunan bir organdır?

- A) Mide
- B) Kalp
- C) Böbrek
- D) Karaciğer

4. Havada bulunan oksijenin kanda bulunan karbondioksitle yer değiştirmesi işlemi, vücudumuzda hangi sistem sayesinde gerçekleşir?

- A) Solunum sistemi
- B) Boşaltım sistemi
- C) Sindirim sistemi
- D) Sinir sistemi

5. Araçtaki ilk yardım çantasında bulundurulması gereken malzemelerin miktarı aşağıdakilerden hangisine göre belirlenir?

- A) Sürücünün isteği
- B) Mevsim ve yol durumu
- C) Sürücü ve yolcuların sağlık durumları
- D) Aracın tipi ve içinde bulunacak kişi sayısı

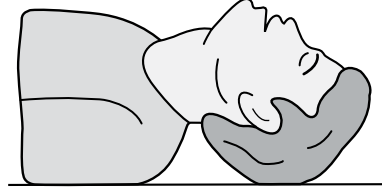
6. Yaralının araçtan çıkarılması esnasında en çok hangisine dikkat edilmelidir?

- A) Hızlı ve aceleci davranmaya
- B) Kaza yapan araca hasar verilmemesine
- C) Kazayı seyredenlerin uzaklaştırılmasına
- D) Yaralıya yeni bir yaralanma meydana gelmemesine

7. Bak - Dinle - Hisset yönteminde "Bak" ne anlama gelir?

- A) Kaç yaralı olduğuna bakılması
- B) Yaralıda kırık olup olmadığına bakılması
- C) Yaralının göğüs kafesinin inip kalktığına bakılması
- D) Kaza bölgesinde yanıcı madde olup olmadığına bakılması

8.



Şekildeki Baş-Çene pozisyonunun aşağıdaki durumların hangisinde verilmesi sakıncalıdır?

- A) Solunum güçlüğü olanlarda
- B) Boyun omurlarında hasar olanlarda
- C) Dilin geriye kaçıp, hava yolunu tıkadığı durumlarda
- D) Ağızdan ağıza yapılan suni solunum uygulamalarında

9. Suda boğulan kalp ve solunumu durmuş bir yetişkine, ilk yardım yapan kişi tek başına ise aşağıdakilerden hangisini uyguladıktan sonra tıbbi yardım istemelidir?

- A) 30 kalp masajı, 2 suni solunumu 5 tur uyguladıktan sonra
- B) 60 kalp masajı, 1 suni solunumu 5 tur uyguladıktan sonra
- C) 30 kalp masajı, 2 suni solunum uygulamasının hemen sonrası
- D) 60 kalp masajı, 2 suni solunum uygulamasının hemen sonrası

10. Burun kanaması olan bir kazazedeye aşağıdaki uygulamalardan hangisinin yapılması doğrudur?

- A) Sırtüstü yatırılıp başın geriye alınması
- B) Sümkürtlülerek burun içinin temizlenmesi
- C) Burun köküne ve enseye sıcak uygulama yapılması
- D) Baş ve işaret parmakları arasına alınan burun kemiğinin kuvvetlice sıkılması

11. Aşağıdaki organlardan hangisinin yaralanması durumunda öksürme ile ağızdan köpüklü kan gelir?

- A) Mide
B) Dalak
C) Akciğer
D) Karaciğer

12. Kanamanın olduğu damar, parmakla kemik arasında sıkıştırılarak kanama durdurulabilir.

Bu yöntemin uygulanması aşağıdaki durumların hangisinde sakıncalıdır?

- A) Toplar damar kanamaları
B) Bacak bölgesi kanamaları
C) Koyu renkli ve yayılarak akan kanamalar
D) Çökme kırık ile birlikte olan kanamalar

13. Şok pozisyonunda hastanın ayaklarının yukarıya kaldırılmasının amacı nedir?

- A) Beyne yeterince kan gitmesini sağlamak
B) Solunumun düzenli olmasını sağlamak
C) Vücut sıcaklığını düşürmek
D) Sindirime yardımcı olmak

14. Bir bebeğin bilinç durumu kontrol edilirken vücudunun hangi bölümüne yavaşça vurulur?

- A) Omuzuna
B) Ayak tabanına
C) Omurgasına
D) Karın boşluğuna

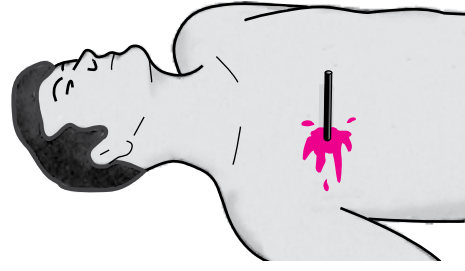
15. Kalp masajı uygulanabilmesi için kesinlikle olması gereken durum aşağıdakilerden hangisidir?

- A) Reflekslerin kaybolması
B) Kazazedenin bilincini yitirmesi
C) Dolaşımın durması, kalp atımlarının alınmaması
D) Solunumun durması, göğüs hareketlerinin olmaması

16. Kaburga kemiği kırıklarında yaralı hangi pozisyonda hastaneye sevk edilir?

- A) Yan yatış
B) Yüzüstü yatış
C) Oturuş veya yarı oturuş
D) Sirtüstü yatış

17.



Şekildeki gibi cisim batması durumunda ilk yardım olarak aşağıdaki uygulamalardan hangisinin yapılması doğrudur?

- A) Cismin çıkarılması ve yaraya tentürdiyot dökülmesi
B) Cismin çıkarılması ve yaralının hastaneye sevk edilmesi
C) Cismin dışarıda kalan kısmının kesilmesi ve yaralının sarılması
D) Cismin çıkarılmadan sabitlenmesi ve yaralının hastaneye sevk edilmesi

18. • Bulantı ve kusma olması
• Burun ve kulaktan kan gelmesi
• Göz bebeklerinin farklı büyüklükte olması

Yukarıda verilen belirtilerin bir kazazedede görülmesi hangi durumda olur?

- A) Baş yaralanması
B) Akciğer delinmesi
C) Dalak yırtılması
D) Kalp spazmı

19. Aşağıdakilerden hangisi 3. derece (ağır) yanıkların bir göstergesidir?

- A) Derinin kuru ve ağrılı olması
B) Yanık bölgesinde sinir harabiyetinin olması
C) Kılcal damar uçları ve sinir uçlarının açık olması
D) Deri bütünlüğünün bozulmaması ve derinin gergin olması

20. Aşağıdakilerden hangisi çıkığın tanımıdır?

- A) Eklem yüzeylerinin birbirinden ayrılması
B) Eklem bağları ve yüzeylerinin zedelenmesi
C) Eklem çevresindeki derinin zedelenmesi
D) Eklem bağlarının kopması

21. Diz ile kalça arasındaki kemikte kırık varsa dıştan uygulanacak atelin boyu ne kadar olmalıdır?

- A) Topuktan dize kadar
- B) Dizden kalçaya kadar
- C) Topuktan kalçaya kadar
- D) Topuktan koltuk altına kadar

22. Tıbbi yardım istenirken aşağıdakilerden hangisinin bildirilmesi gereksizdir?

- A) Yaralıların eğitim durumunun
- B) Araçların hasar durumunun
- C) Olay yerinin tam adresinin
- D) Yaralı sayısının

23. Hangi durumdaki yaralı sağlık kuruluşuna taşınmada birinci derecede önceliklidir?

- A) Turnike uygulanan
- B) Ayağında çıkık olan
- C) Solunum zorluğu çeken
- D) Birinci derecede yanığı olan

24. Yaralı taşımada sedye kullanımı ile ilgili olarak aşağıdakilerden hangisi doğrudur?

- A) Sadece bacağı kırılanları yatırarak taşımak için tercih edilir.
- B) Sedye kullanımı her zaman tercih edilmelidir.
- C) Sadece zehirlenme vakalarının taşınmasında gerekir.
- D) Köprücük kemiği kırıklarında hastanın sedye ile taşınması hayati önem taşır.

25. Sindirim yolu zehirlenmelerinde aşağıdaki uygulamalardan hangisinin yapılması yanlıştır?

- A) Bilinci yerinde olmayan hastanın kusturulmaması
- B) Zehirlenmenin neden kaynaklandığının belirlenmesi
- C) Zehirlenme 2 saati geçmiş ise hastanın hemen kusturulması
- D) Çamaşır suyu ile zehirlenmelerde hastanın kesinlikle kusturulmaması ve bol su içirilmesi

26. Donma vakalarında ilk yardım uygulaması olarak kazazedeye aşağıdakilerden hangisinin yapılması doğrudur?

- A) Önce ılık sonra sıcak ortama almak
- B) Soba ve benzeri ısıtıcılara yaklaştırmak
- C) Donan bölgeyi ovarak masaj yapmak
- D) Elektrikli battaniyeye sarmak

27. Güneş çarpması sonucu görülen ateş yükselmesinden ilk önce hangi organ hücreleri olumsuz olarak etkilenir?

- A) Kalp
- B) Böbrek
- C) Beyin
- D) Akciğer

28. Aşağıdakilerden hangisi gözlük veya lens kullanarak görme yeterliliğine sahip olan sürücüler için doğrudur?

- A) Bu tür adaylara sürücü belgesi verilmez.
- B) Araç kullanırken gözlük veya lenslerini kullanmak zorundadırlar.
- C) Yalnızca şehir dışı yollarda gözlük veya lens kullanmak zorundadırlar.
- D) Yalnızca gece araç kullanırken gözlük veya lens kullanmak zorundadırlar.

29. Alkollü içki içen bir sürücüde aşağıdaki durumlardan hangisi görülür?

- A) Dinç ve zinde olma
- B) Reflekslerinde zayıflama
- C) Manevra kabiliyetinde artma
- D) Aşırı hareketli ve uyumlu olma

30. Araçlarda emniyet kemeri kullanımının zorunlu olması ile aşağıdakilerden hangisi hedeflenmektedir?

- A) Kazaların önlenmesi
- B) Sürücülerin dikkatinin artması
- C) Denetimlerde herhangi bir sorun yaşanmaması
- D) Kaza anında ölüm ve yaralanmaların en aza indirilmesi

İLK YARDIM BİLGİSİ TESTİ BİTTİ.
TRAFİK VE ÇEVRE BİLGİSİ TESTİNE GEÇİNİZ.

1. I- İlk Yardım Bilgisi
II- Trafik ve Çevre Bilgisi
III- Motor ve Araç Tekniği Bilgisi

Yukarıdakilerden hangileri, sürücü adaylarına sürücü kurslarında okutulan derslerdendir?

- A) Yalnız I
B) I - II
C) II - III
D) I - II - III

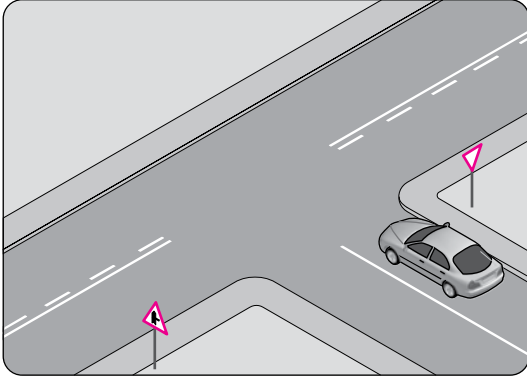
2. Trafik için kamunun yararlanmasına açık olan arazi şeridi, köprüler ve alanlara ne ad verilir?

- A) Şerit
B) Kara yolu
C) Geçiş yolu
D) Bağlantı yolu

3. Yayaların ve araç kullananların diğer yaya ve araç kullananlara göre, yolu kullanma sırasındaki öncelik hakkına ne denir?

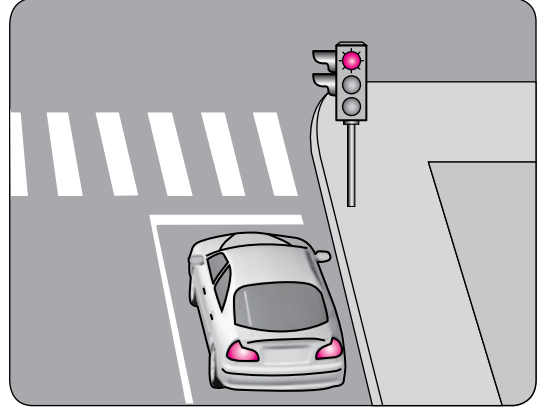
- A) Geçiş hakkı
B) Geçiş yolu
C) Geçiş kolaylığı
D) Geçiş üstünlüğü

4. Resimdeki taşıtın bulunduğu kara yoluna ne ad verilir?



- A) Banket
B) Ana yol
C) Tali yol
D) Bölünmüş yol

5. Şekildeki aracın yoluna devam edebilmesi için, ışıklı trafik işaret cihazında yanan ışığın rengi ne olmalıdır?



- A) Sarı
B) Yeşil
C) Kırmızı
D) Kırmızı ile birlikte sarı

6. Trafik görevlisinin geceleyin ışıklı işaret çubuğunu şekildeki gibi hareket ettirmesinin sürücüler için anlamı nedir?



- A) Dur işareti
B) Geç işareti
C) Yavaşlatma işareti
D) Hızlandırma işareti

7. Şekildeki trafik işareti hangi yol bölümünde bulunur?




- A) Eğimli
B) Kaygan
C) Virajlı
D) Kasisli

5. GRUP

TRAFİK VE ÇEVRE BİLGİSİ

K

8. Kara yolunun sağ ve soluna konan şekildeki trafik işaretleri sürücüyü neyi bildirir?



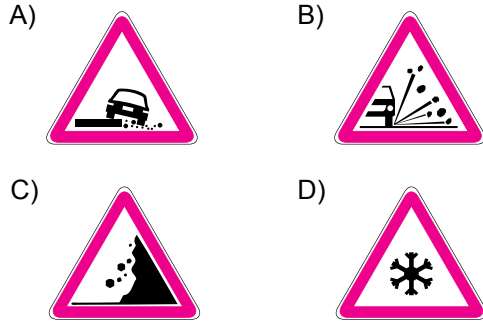
- A) Yolun daralmakta olduğunu
B) 200 m ileride köprü olduğunu
C) 200 m ileride kavşak olduğunu
D) 200 m ileride demir yolu hemzemin geçidi olduğunu

9. Şekildeki trafik işaretini gören sürücü ne yapmalıdır?



- A) Hızını artırmalıdır.
B) Geriye dönmelidir.
C) Hızını azaltmalıdır.
D) Yolun kayganlığını kontrol etmelidir.

10. Aşağıdaki trafik işaretlerinden hangisi düşük banket anlamındadır?



11. Şekildeki trafik işareti neyi bildirir?



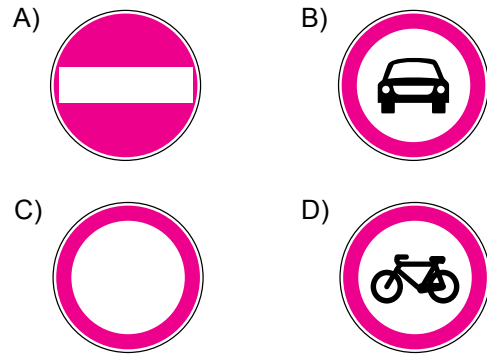
- A) Kamyonlar için geçme yasağı sonunu
B) Karşıdan gelene yol verilmesi gerektiğini
C) Kamyonlar için geçme yasağı başlangıcını
D) Öndeki taşıtın geçilmesinin yasak olduğunu

12. Şekildeki trafik işareti neyi bildirir?

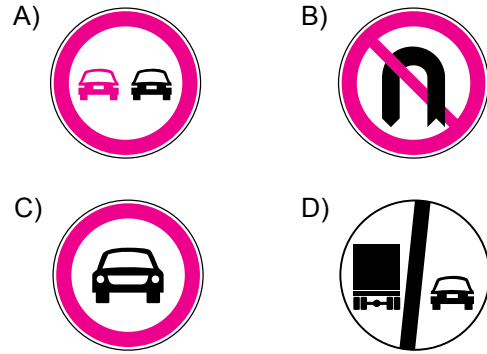


- A) Kamyon garajını
B) Kamyonun giremeyeceğini
C) Kamyon için geçme yasağının sona erdiğini
D) Tehlikeli madde taşıyan taşıtın giremeyeceğini

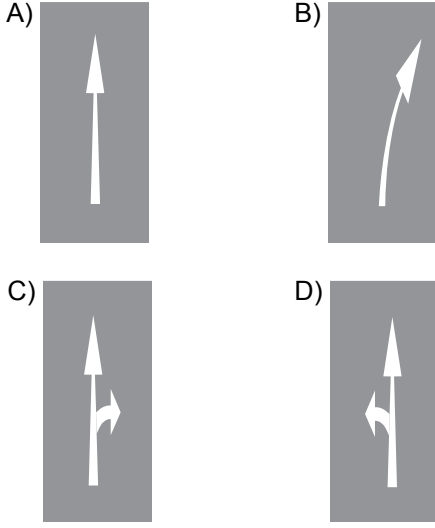
13. Aşağıdakilerden hangisi yolun her iki yönden taşıt trafiğine kapatılmış olduğunu bildirir?



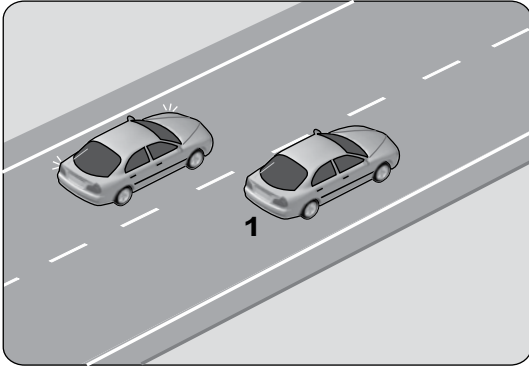
14. Aşağıdakilerden hangisi, öndeki taşıtı geçmek yasaktır anlamındadır?



15. Taşıt yolu üzerine çizilen aşağıdaki yatay işaretlemelerden hangisi şeridin sadece ileri seyir veya sola dönüş için olduğunu bildirir?



16.




Şekildeki iki yönlü yolda, 1 numaralı geçen araç sürücüsünün aşağıdakilerden hangisini yapması doğrudur?

- A) Hızını artırması
- B) Kesik çizgi tarafına yaklaşması
- C) Uzun hüzmeli farlarını art arda yakması
- D) Gidiş yönüne göre sağa doğru yaklaşması

17. Aşağıdaki hâllerin hangisinde sürücü araç kullanmaktan men edilir?

- A) Taşıma sınırının üstünde yolcu alınmışsa
- B) Taşıma sınırının üstünde yük yüklenmişse
- C) Uyuşturucu madde alarak araç kullanıyorsa
- D) Araca zorunlu mali sorumluluk sigortası yaptırılmamışsa

18. Şekildeki araç sürücüsü dönel kavşaktan geriye dönüş yapmak için hangi şeridi izlemelidir?

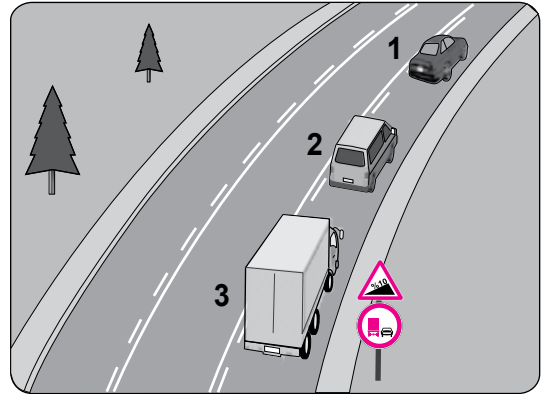


- A) 1 numaralı şeridi
- B) 2 numaralı şeridi
- C) 3 numaralı şeridi
- D) İstediği şeridi

19. Buzlanmanın olduğu yolda sürücünün hangisini yapması doğrudur?

- A) Viraja sert girmesi
- B) Takip mesafesini artırması
- C) Takip mesafesini azaltması
- D) Ani fren yaparak durmaya çalışması

20.



Şekle göre aşağıdakilerden hangisi yasaktır?

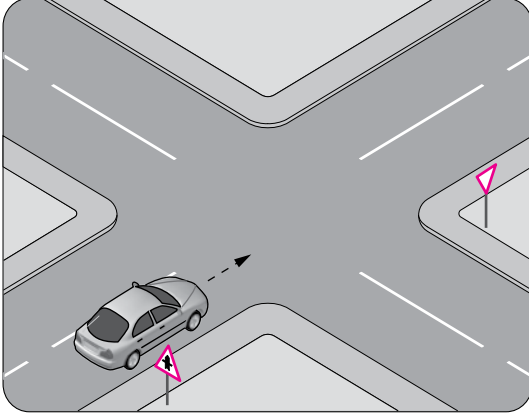
- A) Araçların takip mesafesine uyması
- B) 2 numaralı aracın 1 numaralı aracı geçmesi
- C) 3 numaralı kamyonun önündeki araçları geçmesi
- D) 2 numaralı aracın 1 numaralı aracı geçerken hızını arttırması

21. Aksine bir işaret yoksa, şekildeki araç için yerleşim yeri dışındaki bölünmüş yollarda azami hız sınırı saatte kaç kilometredir?



- A) 90 B) 100 C) 110 D) 120

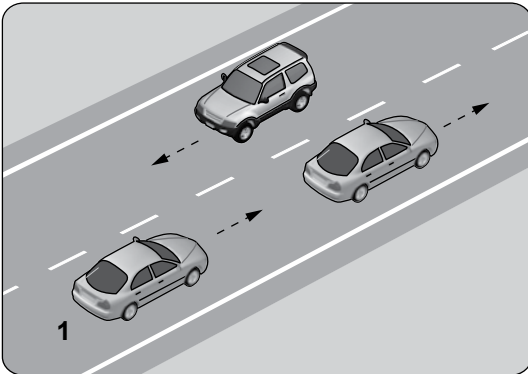
- 22.



Şekle göre sürücünün aşağıdakilerden hangisini yapması zorunludur?

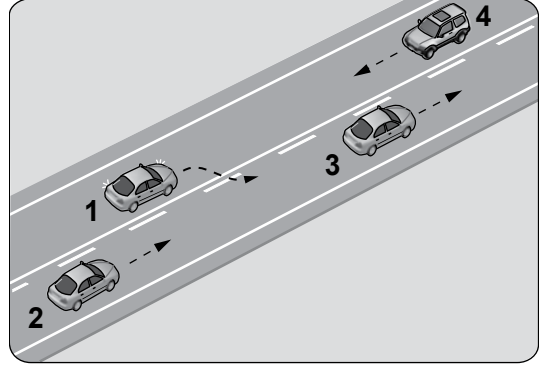
- A) Hızını azaltması
B) Sabit hızla seyretmesi
C) Durup, kavşağı kontrol etmesi
D) Tali yoldan gelen araçlara yol vermesi

23. Şekildeki 1 numaralı araç 80 km/saat hızla seyrederken önündeki araca en fazla kaç metre yaklaşabilir?



- A) 10 B) 20 C) 30 D) 40

- 24.



Şekildeki durumda aşağıdakilerden hangisinin yapılması doğrudur?

- A) 4 numaralı aracın hızını artırması
B) 1 numaralı aracın sağ şeride girmesi
C) 2 numaralı aracın takip mesafesini azaltması
D) 2 numaralı aracın 3 numaralı aracı geçmeye teşebbüs etmesi

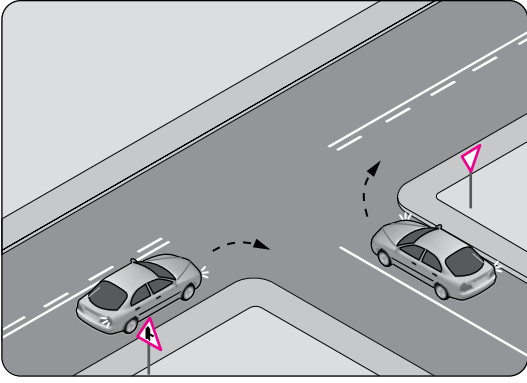
25. Öndeki araç geçilirken, geçiş şeridinde ne kadar seyredilmelidir?

- A) Geçilen aracın boyunun yarısı kadar
B) Geçilen aracın ön hizasına gelinceye kadar
C) Karşıdan gelen araçla karşılaşıncaya kadar
D) Geriyi görme aynasından geçilen araç görülünceye kadar

26. Geri manevrasını çevre şartları nedeniyle emniyetle yapamayan otobüs sürücüsü ne yapmalıdır?

- A) Akan trafiği durdurmalı
B) Bir gözcü bulundurmalı
C) Geri manevradan vazgeçmeli
D) Aşağıya inip bir süre beklemeli

27.



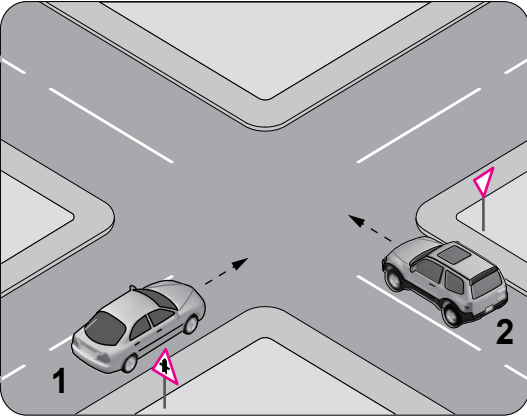
Şekildeki gibi sağa dönüş yapmak isteyen sürücülerin aşağıdakilerden hangisini yapması yanlıştır?

- A) Hızlarını azaltmaları
- B) Dar bir kavisle dönmeleri
- C) Dönüşlerini en sol şeritte tamamlamaları
- D) Buldukları şeritte en sağa yaklaşmaları

28. Kontrolsüz kavşaklarda aşağıdakilerden hangisinin yapılması doğrudur?

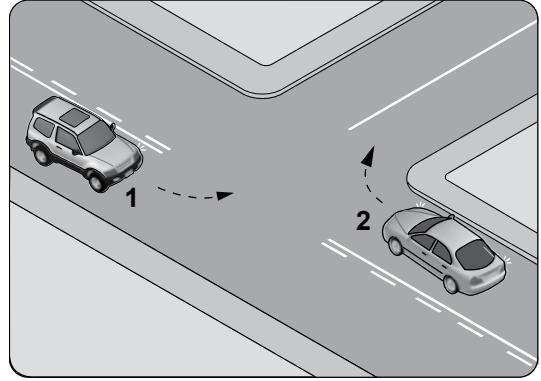
- A) Şerit değiştirilmesi
- B) Öndeki aracın geçilmesi
- C) Aracın hızının artırılması
- D) Geçiş hakkı kuralına uyulması

29. Şekildeki 2 numaralı araç sürücüsü ne yapmalıdır?



- A) 1 numaralı araca yol vermeli
- B) Geçiş hakkını kendi kullanmalı
- C) Hızını artırarak kavşağa önce girmeli
- D) Korna çalıp 1 numaralı aracı durdurmalı

30. Şekle göre kontrolsüz kavşakta karşılaşan araçlardan hangisi ilk geçiş hakkını kullanmalıdır?



- A) 1 numaralı araç
- B) 2 numaralı araç
- C) Hızı az olan araç
- D) Hızı fazla olan araç

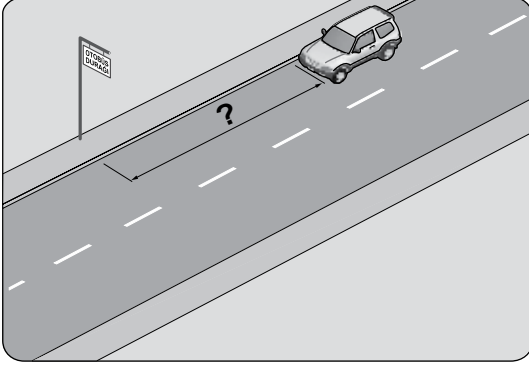
31. Geçiş üstünlüğü hakkı hangi hâllerde kullanılmaz?

- A) Görev hâli dışında
- B) Şehirler arası kara yollarında
- C) Trafiğin yoğun olduğu kara yollarında
- D) Yolların buzlu ve kaygan olması hâlinde

32. Eğimli iki yönlü dar yollarda karşılaşan araç sürücüler için aşağıdakilerden hangisi doğrudur?

- A) Çıkan araç sürücüsünün inen araç sürücüsüne yol vermesi
- B) İnen araç sürücüsünün çıkan araç sürücüsüne yol vermesi
- C) İnen araç sürücüsünün çıkan araç sürücüsünü ikaz edip durdurması
- D) İnen araç sürücüsünün aracın motorunu durdurup, vitesi boşa alması

33. Şekildeki araç sürücüsü, kamu hizmeti yapan yolcu taşıtı durağının en az kaç metre mesafe dışına aracını park edebilir?



- A) 5 B) 10 C) 15 D) 20

34. Geceleyin önündeki aracı geçmek isteyen sürücü, bu araçla yan yana gelinceye kadar hangi ışıkları kullanmalıdır?

- A) Sis ışıklarını
B) Acil uyarı ışıklarını
C) Uzağı gösteren ışıkları
D) Yakını gösteren ışıkları

35. Aşağıdakilerden hangisi tedbirsiz ve saygısız araç sürmeye örnek değildir?

- A) Yayalara su sıçratılması
B) Hız kurallarına uyulması
C) Diğer sürücülerin korkutulması
D) Seyir hâlinde iken sürücünün elindeki cep telefonunu kullanması

36. Aşağıdakilerden hangisi arızalı aracı başka bir araç çekerken dikkat edilmesi gereken kurallardandır?

- A) Her iki aracın yüklü olması
B) Her iki aracın taşıma sınırlarının eşit olması
C) Çekilen aracın sürücü yönetiminde olması
D) Çekilen aracın yüklü, çeken aracın boş olması

37. Okul taşıtının arkasındaki DUR işaretinin yandığını gören arkadan gelen sürücü nasıl hareket etmelidir?

- A) Aracını durdurmalı
B) Diğer sürücülerini uyarmalı
C) Dikkatli ve yavaş geçmeli
D) Hızını artırarak uzaklaşmalı

38. Trafik işaret levhaları ile belirlenmiş yaya ve okul geçitlerine yaklaşan sürücülerin aşağıdakilerden hangisini yapmaları yanlıştır?

- A) Yavaşlamaları
B) Yaya ikaz ederek geçmeleri
C) Yayalara ilk geçiş hakkını vermeleri
D) Okul geçidi görevlisinin talimatlarına uymaları

39. Demir yolu (hemzemin) geçidinde aşağıdakilerden hangisinin yapılması yasaktır?

- A) Bariyer açık ise dikkatli geçilmesi
B) Bariyer kapalı ise durulması
C) Öndeki aracın geçilmesi
D) Hızın azaltılması

40. Araçlar yüklenirken aşağıdakilerden hangisinin yapılması yasaktır?

- A) Gabarinin aşılması
B) Araç dengesinin korunması
C) Trafik güvenliğinin dikkate alınması
D) Taşıma sınırına ve dingil ağırlığına uyulması

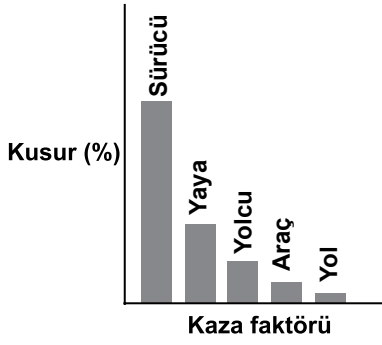
41. Otoyoldan çıkacak araçların hangi şeridi kullanması zorunludur?

- A) Orta şeridi
B) Hızlanma şeridini
C) Tırmanma şeridini
D) Yavaşlama şeridini

42. Kollarında üç yuvarlaklı sarı bant bulunan ve beyaz baston taşıyan yayayı taşıt yolunda gören sürücü nasıl hareket etmelidir?

- A) Etkili şekilde korna çalmalı
B) Etkili fren yapıp, yayanın dikkatini çekmeli
C) Yayayı korkutmadan yanından hızla geçmeli
D) Yavaşlamalı, gerektiğinde durup yayaya yardımcı olmalı

43. Grafikte ülkemizde meydana gelen trafik kazalarına ait kaza faktörleri ve kusur yüzdeleri (%) verilmiştir.



Verilere göre aşağıdaki yorumlardan hangisi yapılabilir?

- A) Trafik kazalarında en büyük kusur insanlardadır.
 B) Trafikteki araç sayısı nüfusa bağlı olarak artmaktadır.
 C) Araç sayısı yolların gelişmesine bağlı olarak artmaktadır.
 D) Yolcu ve yük taşınmasında genellikle kara yolu kullanılmaktadır.
44. Hususi otomobillerde 3 yaş sonunda kaç yılda bir muayene yaptırılması zorunludur?
 A) 1 B) 2 C) 3 D) 4
45. C sınıfı sürücü belgesine sahip olanlar aşağıdaki araçlardan hangisini kullanabilir?
 A) Çekici B) Otobüs
 C) Kamyon D) İş makinesi
46. Ağır hasarlı veya ölümlü trafik kazalarına karışan sürücülerin aşağıdakilerden hangisini yapması yasaktır?
 A) Kazaya karışan aracın yerini değiştirmesi
 B) Olayı en kısa zamanda yetkililere bildirmesi
 C) Trafik güvenliği için ışıklı yansıtıcı cihazlar koyması
 D) İstenildiği takdirde gerekli bilgi ve belgeleri karşı tarafa vermesi

47. I- Arkadan çarpma
 II- Kırmızı ışıkta geçme
 III- Kavşaklarda geçiş önceliğine uymama
 Yukarıdakilerden hangileri trafik kazalarında asli kusur sayılır?

- A) Yalnız I B) I - II
 C) II - III D) I - II - III

48. • Reflektör
 • İlk yardım çantası
 • Yangın söndürme cihazı

Yukarıdaki teçhizatın tamamını bulundurması zorunlu olmayan motorlu taşıt aşağıdakilerden hangisidir?

- A) Otobüs
 B) Lastik tekerlekli traktör
 C) Otomobil
 D) Kamyon

49. Çevre kirliliğini önlemek amacıyla yapılan çalışmalara ne denir?

- A) Çevre B) Çevre hakkı
 C) Çevre düzeni D) Çevre koruma

50. Aşağıdakilerden hangisi çevre kirliliğinin azalmasına olumlu katkı sağlar?

- A) Kurşun oranı yüksek yakıt kullanılması
 B) Araç egzozlarının delik ve hasarlı olması
 C) Araç bakımlarının düzenli olarak yaptırılması
 D) Trafik yoğunluğu nedeniyle trafik akışının çok yavaş olması

TRAFİK VE ÇEVRE BİLGİSİ TESTİ BİTTİ.
 MOTOR VE ARAÇ TEKNİĞİ BİLGİSİ
 TESTİNE GEÇİNİZ.

1. Aşağıdakilerden hangisi araçlarda gücün kaynağıdır?

- A) Şaft B) Motor
C) Tekerlek D) Vites kutusu

2. Araçlarda arka camın rezistanslı (ısıtıcı) olmasının nedeni aşağıdakilerden hangisidir?

- A) Camın patlamasını önlemek
B) Radyo ve televizyon anteni olarak kullanmak
C) Camda oluşan donma ve buğulanmayı önlemek
D) Cam yapışkanının cama ve gövdeye sağlam tutunmasını sağlamak

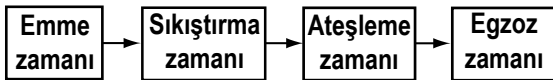
3. Aşağıdakilerden hangisi buji ile ateşlemeli motorların yakıtıdır?

- A) Benzin B) Motorin
C) Antifriz D) Gaz yağı

4. Aşağıdaki parçalardan hangisi arızalandığında; motor yağında su, soğutma suyunda yağ olduğu gözlenir?

- A) Enjektör
B) Marş motoru
C) Egzoz manifoldu
D) Silindir kapak contası

5. Dört zamanlı dizel motorlarda, zamanların oluşum sırası aşağıdaki gibidir.



Buna göre, hangi zamanda yanma sonucu oluşan gazlar motor dışına atılır?

- A) Emme zamanı
B) Sıkıştırma zamanı
C) Ateşleme zamanı
D) Egzoz zamanı

6. Buji ile ateşlemeli motorlarda emme zamanında silindirlere hangisi alınır?

- A) Hidrolik yağı
B) Sadece hava
C) Yakıt-hava karışımı
D) Sadece yakıt

7. Aşağıdakilerden hangisi ateşleme sisteminin parçasıdır?

- A) Karter
B) Termostat
C) Yağ pompası
D) Endüksiyon bobini

8. Hangisi distribütörden gelen yüksek gerilimi kıvılcıma dönüştürür?

- A) Buji B) Akü
C) Supap D) Enjektör

9. Akünün bakımında aşağıdakilerden hangisi yapılır?

- A) Antifriz ilave edilir.
B) Plakaları temizlenir.
C) Suyu boşaltılıp yağlanır.
D) Kutup başlarının oksitleri temizlenir.

10. Aşağıdakilerden hangisi yakıt sisteminin elemanıdır?

- A) Termostat
B) Yakıt filtresi
C) Marş motoru
D) Endüksiyon bobini

11. Yakıtı depodan emerek belli bir basınç altında karbüratöre pompalayan parça hangisidir?

- A) Enjektör B) Yakıt filtresi
C) Benzin otomatığı D) Emme manifoldu

12. Motorun ihtiyacına göre çeşitli oranlarda yakıt-hava karışımını düzenleyen motor parçası aşağıdakilerden hangisidir?

- A) Karter B) Karbüratör
C) Hava filtresi D) Yakıt pompası

13. Motora alınan hava içerisindeki toz ve kum zerreciklerini aşağıdakilerden hangisi temizler?

- A) Hava filtresi B) Karbüratör
C) Emme supabı D) Emme manifoldu

14. Hava filtresinin kirli olması motorun çalışmasını nasıl etkiler?

- A) Motor yağ eksiltir.
- B) Motorun gücü artar.
- C) Yakıt sarfiyatını artırır.
- D) Yakıt sarfiyatını azaltır.

15. Soğuk motoru kolay çalıştırmak için zengin karışımı hazırlayan tertibat aşağıdakilerden hangisidir?

- A) Buji
- B) Jikle
- C) Enjektör
- D) Distribütör

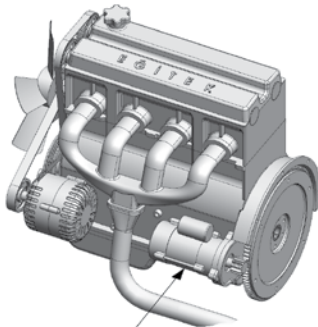
16. Aşağıdakilerden hangisi motorda yapılan ve yakıt tasarrufuna etki eden ayarlardan biri değildir?

- A) Far ayarı
- B) Buji ayarı
- C) Avans ayarı
- D) Platin ayarı

17. Dizel motorlu araçları çalıştırırken, marşa basmadan önce gösterge panelindeki ikaz ışıklarından hangisinin sönmesi beklenmelidir?

- A) Akü şarj
- B) Yağ basıncı
- C) El freni çekili
- D) Isıtma bujisi

18. Şekilde gösterilen marş motorunun görevi nedir?



Marş motoru

- A) Aküyü şarj etmek
- B) Araca ilk hareketi vermek
- C) Motora ilk hareketi vermek
- D) Motoru çalışma sıcaklığında tutmak

19. Marşa basıldığında marş motoru çalışmıyor ancak korna çalışıyorsa, muhtemel arıza aşağıdakilerin hangisinde olabilir?

- A) Jikle devresinde
- B) Rölanti devresinde
- C) Akünün kutup başlarında
- D) Marş motorunun kablo bağlantılarında

20. Aşağıdakilerden hangisi motordaki yağın görevidir?

- A) Yakıt tüketimini artırmak
- B) Sürtünmeye bağlı aşınmayı azaltmak
- C) Motorun erken ısınmasını sağlamak
- D) Tekerleğe gelen yükü azaltmak

21. Motorun alt tarafını kapatarak hareketli parçalarını dış etkenlerden koruyan ve motor yağına depoluk eden parça hangisidir?

- A) Karter
- B) Radyatör
- C) Silindir kapağı
- D) Külbütör kapağı

22. Aşağıdakilerden hangisi yağlama sisteminde yapılan kontrollerden biri değildir?

- A) Yağ rengi kontrolü
- B) Yağ kaçağı kontrolü
- C) Hava filtresi kontrolü
- D) Yağ seviyesi kontrolü

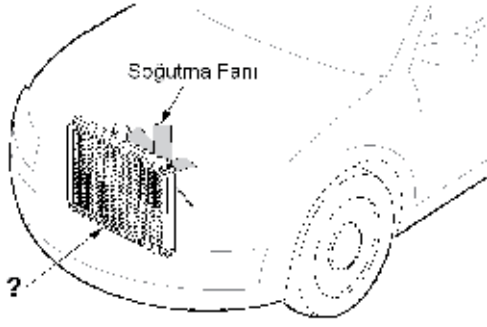
23. Motor çalışır durumda iken aracın gösterge panelinde yağ basıncı ikaz ışığı yanıyor ise sebebi aşağıdakilerden hangisi olabilir?

- A) Fren hidroliğinin eksilmesi
- B) Karterde yağın kalmaması
- C) Depodaki yakıtın azalması
- D) Radyatörde antifrizin olmaması

24. Kullanma kılavuzuna göre, belirli kilometre sonunda araçta aşağıdakilerden hangisi değiştirilmelidir?

- A) Radyatör
- B) Yağ filtresi
- C) Dikiz aynaları
- D) Direksiyon simidi

25. Şekilde soru işareti (?) ile gösterilen motor soğutma sistemi parçasının adı nedir?



- A) Radyatör
B) Vantilatör
C) Kompresör
D) Hararet müşiri

26. Aşağıdakilerden hangisi termostatın görevidir?

- A) Yakıt-hava karışımını ayarlamak
B) Diferansiyeli çalışma sıcaklığında tutmak
C) Karterdeki yağı yağ kanallarına göndermek
D) Motor soğutma suyu sıcaklığını çalışma sıcaklığında sabit tutmak

27. Motor soğutma suyu sıcaklığını sürücüyeye bildiren gösterge aşağıdakilerden hangisidir?

- A) Şarj göstergesi
B) Yakıt göstergesi
C) Hararet göstergesi
D) Fren hidroliği göstergesi





28. Aşağıdakilerden hangisi motorda hararetin yükselmesine sebep olabilir?

- A) Distribütör kapağının çatlak olması
B) Soğutma suyunda antifrizin olması
C) Vantilatör kayışının çok gergin olması
D) Aracın uygun vites ve devirde kullanılmaması

29. Araç için gerekli elektriği üreten parça aşağıdakilerden hangisidir?

- A) Alternatör
B) Distribütör
C) Kondansatör
D) Marş motoru

30. Aracın gösterge panelinde aşağıdaki ikaz ışıklarından hangisinin yanıyor olması, şarj sisteminin çalışmadığını gösterir?

- A)  B) 
C)  D) 

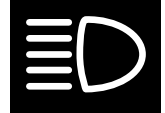
31. Vantilatör kayışının koptuğu ilk önce hangi göstergeden anlaşılır?

- A) Yağ göstergesinden
B) Şarj göstergesinden
C) Yakıt göstergesinden
D) Hararet göstergesinden

32. Fren pedalına basıldığında fren lambaları yanmıyorsa sebebi aşağıdakilerden hangisidir?

- A) Flaşör arızalıdır.
B) Distribütör arızalıdır.
C) Fren müşiri arızalıdır.
D) Geri vites müşiri arızalıdır.

33. Aracın gösterge panelinde bulunan şekildeki ikaz ışığının, mavi renkte yanması sürücüyeye neyi bildirir?



- A) Kısa farların yandığını
B) Uzun farların yandığını
C) Cam rezistansının çalıştığını
D) El freninin çekilmiş olduğunu

34. Aşağıdakilerden hangisi kavrama (debriyaj) sisteminin görevidir?

- A) Motorun hareketini supaplara iletmek veya kesmek
B) Motorun hareketini alternatöre iletmek veya kesmek
C) Motorun hareketini vites kutusuna iletmek veya kesmek
D) Motorun hareketini marş motoruna iletmek veya kesmek

35. Aşağıdakilerden hangisi diferansiyelin görevlerindedir?

- A) Motora ilk hareketi vermek
- B) Motorun durmasını sağlamak
- C) Motorun rölantide çalışmasını sağlamak
- D) Vites kutusundan gelen hareketi akslara iletmek

36. Araç lastiklerinin yetersiz şişirilmesi aşağıdakilerden hangisine neden olur?

- A) El freninin arızalanmasına
- B) Yakıt tüketiminin artmasına
- C) Şarj lambasının yanmasına
- D) Radyatör peteklerinin tıkanmasına

37. Aşağıdakilerden hangisi balanssız tekerleğin araç üzerindeki etkilerindedir?

- A) Direksiyonun titremesi
- B) Sürüş konforunun artması
- C) Motor yakıtına yağ karışması
- D) Fren disk yüzeyinin çabuk soğuması

38. Araç park edildikten sonra aşağıdakilerden hangisini yapmak gerekir?

- A) El frenini çekmek
- B) Vitesi boşa almak
- C) Fren pedalına basmak
- D) Debriyaj pedalına basmak

39. Aşağıdakilerden hangisinin bozulması ön tekerleklerde düzensiz lastik aşınmasına sebep olur?

- A) Buji ayarının
- B) Rot ayarının
- C) Avans ayarının
- D) Rölanti ayarının

40. Aşağıdakilerden hangisi süspansiyon sisteminde yer alır?

- A) Şaft
- B) Debriyaj
- C) Amortisör
- D) Diferansiyel

TEST BİTTİ.
CEVAPLARINIZI KONTROL EDİNİZ.

SINAV SÜRESİNCE UYULACAK KURALLAR

- 1. Adaylar, sınavın başladığı andan itibaren, salon görevlilerinin tüm uyarılarına uymak zorundadırlar.**
- 2. Sınav başladıktan sonra adayların salon görevlileri ve birbirleri ile konuşmaları, kalem, silgi vb. şeyleri istemeleri yasaktır.**
- 3. Sınav sırasında kopya çeken, çekmeye teşebbüs eden, kopya veren ya da kopya çekilmesine yardım eden, kurallara ve uyarılara uymayan adayların sınavları geçersiz sayılacaktır.**
- 4. Adaylar sınav süresince, sınav giriş belgesi ile birlikte kimlik belgelerinden birini (nüfus cüzdanı, pasaport veya sürücü belgesini) masalarının üzerinde bulunduracaktır.**
- 5. Sınav evraklarını teslim etmeyen, soru kitapçıklarının sayfalarından bir kısmını eksik teslim edenlerin sınavları geçersiz sayılacak, ayrıca haklarında yasal işlem yapılacaktır.**

SALON GÖREVLİLERİNCE SINAV BAŞLAMADAN ÖNCE ADAYLARA YAPILACAK SON UYARI

Soracağınız bir şey var mı? Varsa, şimdi sorunuz; sınav başladıktan sonra sorularınıza cevap verilmeyecektir. Hazır mısınız? Sınav, okulun bütün salonlarında aynı anda başlayacağı için başlama zilini beraberce bekleyelim. Hepinize başarılar dileriz.

(Salon başkanı başlama ve bitiş saatini tahtaya yazacaktır.)

Bu kitapçığın her hakkı saklıdır. Hangi amaçla olursa olsun, kitapçığın tamamının veya bir kısmının Millî Eğitim Bakanlığı Yenilik ve Eğitim Teknolojileri Genel Müdürlüğü'nün yazılı izni olmadan kopya edilmesi, fotoğraflarının çekilmesi, bilgisayar ortamına alınması, herhangi bir yolla çoğaltılması, yayımlanması veya başka bir amaçla kullanılması yasaktır. Bu yasağa uymayanlar, doğabilecek cezai sorumluluğu ve kitapçığın hazırlanmasındaki mali külfeti peşinen kabullenmiş sayılır.

“BAŞLAYINIZ.” DENİLMEDEN SORU KİTAPÇIĞINI AÇMAYINIZ.

5. GRUP**CEVAP ANAHTARI****K**

İLK YARDIM BİLGİSİ	TRAFİK VE ÇEVRE BİLGİSİ	MOTOR VE ARAÇ TEKNİĞİ BİLGİSİ
1. A	1. D	1. B
2. D	2. B	2. C
3. B	3. A	3. A
4. A	4. C	4. D
5. D	5. B	5. D
6. D	6. A	6. C
7. C	7. B	7. D
8. B	8. D	8. A
9. A	9. C	9. D
10. D	10. A	10. B
11. C	11. A	11. C
12. D	12. B	12. B
13. A	13. C	13. A
14. B	14. A	14. C
15. C	15. D	15. B
16. C	16. D	16. A
17. D	17. C	17. D
18. A	18. A	18. C
19. B	19. B	19. D
20. A	20. C	20. B
21. D	21. C	21. A
22. A	22. A	22. C
23. C	23. D	23. B
24. B	24. B	24. B
25. C	25. D	25. A
26. A	26. B	26. D
27. C	27. C	27. C
28. B	28. D	28. D
29. B	29. A	29. A
30. D	30. B	30. D
	31. A	31. B
	32. B	32. C
	33. C	33. B
	34. D	34. C
	35. B	35. D
	36. C	36. B
	37. A	37. A
	38. B	38. A
	39. C	39. B
	40. A	40. C
	41. D	
	42. D	
	43. A	
	44. B	
	45. C	
	46. A	
	47. D	
	48. B	
	49. D	
	50. C	